

Fișă de lucru

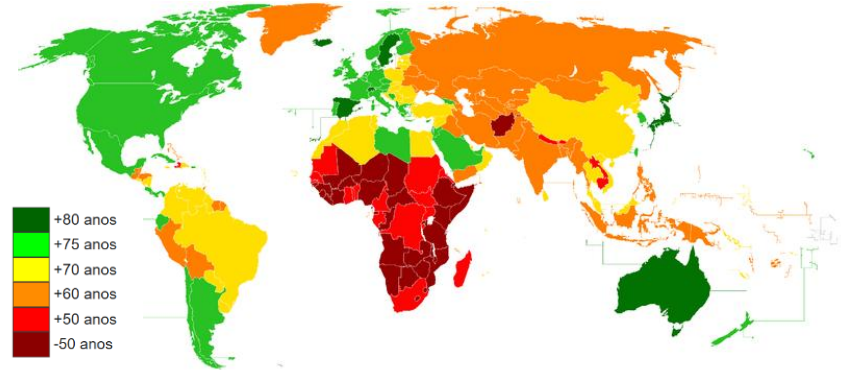
-Geografia populației (clasa a X-a)

Subiectul I.

Calculați densitatea populației unui stat care are o suprafață de 420 000 km² și o populație de 37 800 000 locuitori.

Subiectul II. Având în vedere harta alăturată care prezintă valorile medii ale speranței de viață în statele lumii, răspundeți la următoarele cerințe:

1. explicați prin 3 argumente diferențele de valori între statele europene și cele africane;
2. enumerați 3 state cu valori mai mici de 50 de ani ale speranței de viață;
3. enumerați 3 state cu valori mai mari de 80 de ani ale speranței de viață;



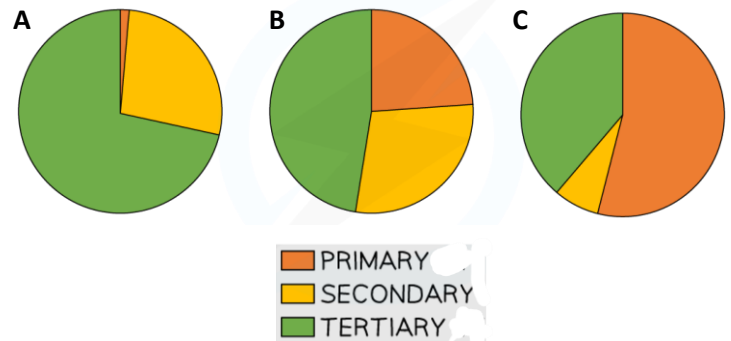
Subiectul III. Calculați sporul total al populației

dintr-un stat în anul 2023 știind că în acel an a înregistrat 240 000 de emigranți, 150 000 de imigranți, 380 000 de nașteri și 330 000 de decese.

Subiectul IV.

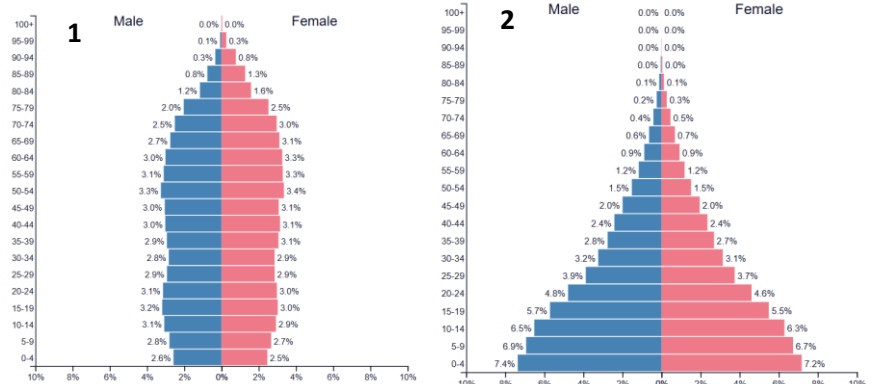
1. Precizați numele celei mai populate țări din lume;
2. Enumerați 3 state ale lumii în care predomină religia islamică;
3. Ce religie predomină în statul Israel?
4. Având în vedere familiile lingvistice indo-europeană, sino-tibetană, altaică, uralică, hamito-semitică și australă, corelați-le cu următoarele limbi vorbite pe glob: japoneza, mandarina, engleza, rusa, filipino, persana, ebraica, maghiara, turca, coreeana, araba, finlandeza, româna, hindi, spaniola.

Subiectul V. Graficele alăturate prezintă structura populației pe sectoare economice în 3 state din lume. Știind că cele 3 state sunt China, Germania și Kenya, corelați numele acestora cu litera cu care este marcat fiecare grafic.



Subiectul VI. Analizați graficele alăturate care prezintă piramida populației pentru două state din lume, Nigeria și Franța.

1. Corelați numele celor două state cu numerele graficelor specifice populației acestora;
2. Numiți procesul caracterizat de creșterea populației vârstnice vizibil în graficul nr. 1;
3. Numărul graficului care indică o valoare a speranței de viață mai redusă;
4. Comparați valorile natalității vizibile în cele două grafice prezentând câte două cauze ale acestor valori.



Nume și prenume elev:

Prof. Gabriel Dascălu

Clasa a X-a

Subiectul VII. Imaginile alăturate prezintă diferite tipuri de locuințe/așezări din diferite zone ale lumii.

Precizați:

1. tipul de așezare/locuință pentru fiecare dintre imaginile marcate cu literele a, b și c;
2. continentul specific fiecărei imagini marcate cu literele a, b și c;
3. rasa umană predominantă în fiecare dintre zonele marcate cu literele a, b și c.

Subiectul VIII. Analizați harta alăturată care prezintă densitatea populației la nivel mondial și precizați:

1. câte un factor natural care explică valorile scăzute din zonele marcate cu numerele 1, 2 și 3;
2. numele a două țări cu valori ridicate ale densității populației;

